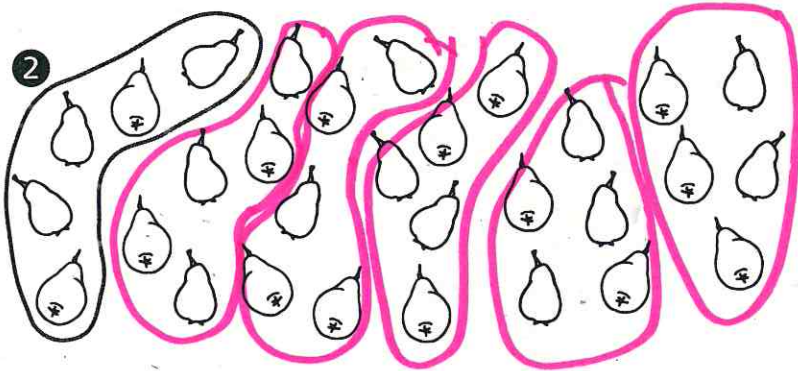


Immer 3 Orangen sollen in einen Sack.

$21 : 3 = \underline{7}$

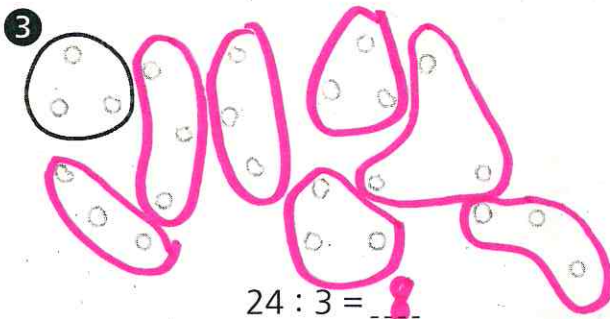
7 Säcke werden gebraucht.



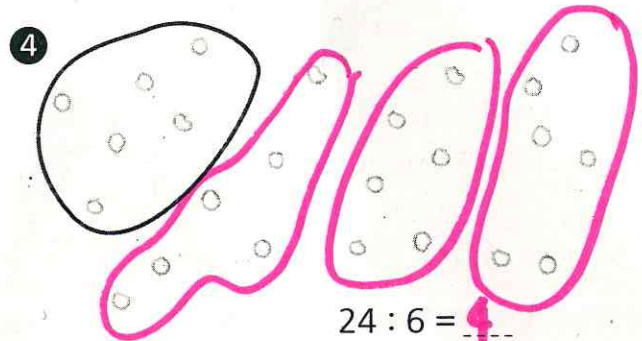
Immer 5 Birnen sollen in ein Netz.

$30 : 5 = \underline{6}$

6 Netze werden gebraucht.



$24 : 3 = \underline{8}$



$24 : 6 = \underline{4}$

5 Zeichne Punkte. Teile auf.

6

$24 : 8 = \underline{3}$

$24 : 4 = \underline{6}$

7 Setze fort.

